

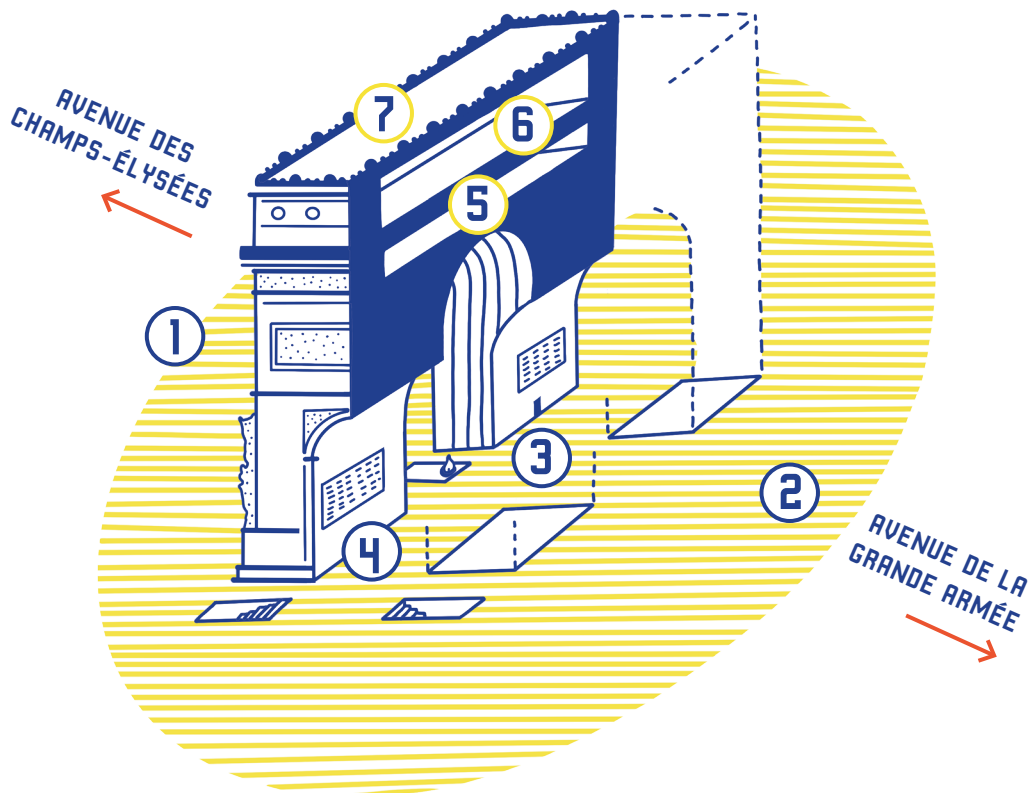


**ARC DE
TRIOMPHE**

LIVRET - JEUX

 **DÈS 7 ANS**

PARCOURS DE TA VISITE



Les numéros du parcours sont indiqués par ce pictogramme tout au long du livret.

À L'ARC DE TRIOMPHE, TU AS LE DROIT :



De visiter à ton rythme.



De prendre des photos ou de faire des dessins sur ton carnet.



De poser des questions aux gens qui travaillent ici.



De parler et partager tes idées et tes émotions.



D'imaginer plein de choses.



De te reposer.

BIENVENUE À L'ARC DE TRIOMPHE !

Ce livret va te permettre de visiter le monument en famille.

À chaque étape de ta visite, tu trouveras des informations sur le monument et des questions. Il te faudra bien observer pour y répondre.



Dès que tu vois ce symbole, reporte ta réponse sur la dernière page pour découvrir un célèbre général.

Il y a environ 200 ans, l'empereur **NAPOLÉON IER** dirigeait la France.

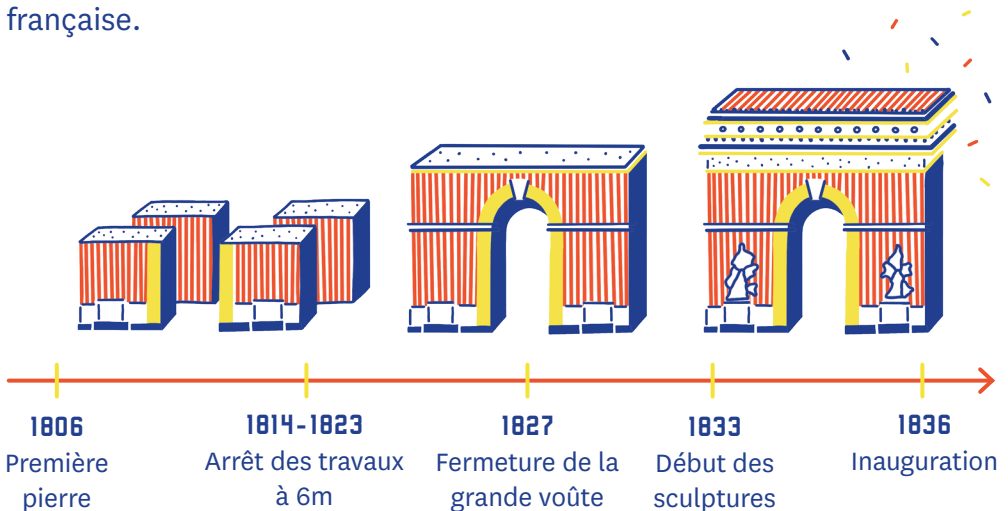
Il est célèbre pour ses campagnes militaires, en Italie, en Égypte, en Allemagne, en Russie, etc. Sa victoire la plus connue est la **BATAILLE D'AUSTERLITZ**, le 2 décembre 1805, où il aurait dit à ses soldats :



« Vous rentrerez dans vos foyers en passant sous des arcs de triomphe ! »

En rentrant à Paris, il lance la construction de l'**ARC DE TRIOMPHE** qui durera 30 ans. Il meurt avant la fin et n'a vu que les 4 piliers construits.

C'est le roi **LOUIS-PHILIPPE IER** qui termine l'Arc de triomphe en **1836**. Il le dédie aux armées de Napoléon, mais aussi à celles de la Révolution française.



POURQUOI UN ARC DE TRIOMPHE ?

Un arc de triomphe, c'est un peu comme une **PORTE** sous laquelle on défile pour **FÊTER SON TRIOMPHE** sur les ennemis. Dans l'Antiquité, il y a environ 2 000 ans, les Romains en construisaient à l'entrée des villes pour célébrer leurs armées et leurs généraux victorieux.

Napoléon s'en est inspiré pour rappeler qu'il était lui aussi empereur et célébrer son armée.



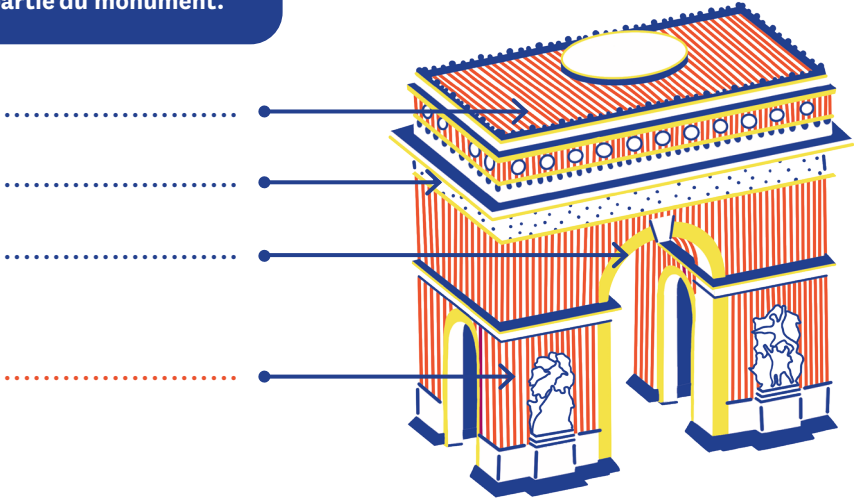
Un arc de triomphe peut prendre plusieurs formes, il peut avoir 1 ou 3 arches, des colonnes, des statues pour le couronner, etc.

À ton tour ! Imagine ton arc de triomphe et dessine-le.

1 **Viens te placer face à la façade principale de l'Arc de triomphe, dos aux Champs-Élysées.**

Ici, l'Arc de triomphe a une arche principale et deux plus petites sur les côtés. Son décor est structuré par de nombreux éléments d'architecture.

Retrouve le nom de chaque partie du monument.

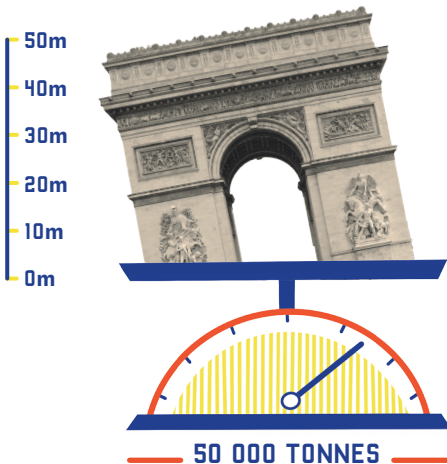


CORNICHE : bande de pierre en saillie (qui ressort) qui sépare 2 niveaux.

PIÉDROIT : pilier carré qui soutient une voûte.

TERRASSE : toit plat sur lequel on peut se promener.

VOÛTE : surface arrondie qui repose sur des piliers.



Cet arc de triomphe est l'un des plus grands du monde. Il fait la taille d'un immeuble de 18 étages et le poids de 10 000 éléphants !

À TOI DE JOUER !

Aide-toi de tes pas pour mesurer sa largeur : un grand pas fait environ 1 mètre.

- 5 mètres

➤➤➤➤➤➤➤➤➤ **Rapproche-toi du monument et observe les sculptures.**

Vois-tu Napoléon ?

Il est entouré d'allégories, c'est-à-dire des personnages qui représentent des choses ou des idées.

L'HISTOIRE grave le nom des victoires sur sa tablette pour qu'on s'en rappelle toujours.

P _____
M _____
A _____

Quelles victoires est-elle en train d'écrire ?

Napoléon pose sa main sur **LA VILLE**, avec sa couronne en forme de muraille, pour la protéger.

Napoléon est habillé en empereur romain, comme Jules César, pour montrer que lui aussi est empereur.

Avec sa trompette, **LA RENOMMÉE** annonce ses victoires.

Il y a 2 autres Renommées à trompettes sur cette façade de l'Arc, les vois-tu ?

LA VICTOIRE pose une couronne de laurier sur sa tête, signe de triomphe.

LES PAYS VAINCUS sont agenouillés dans l'ombre.

À TOI DE JOUER !

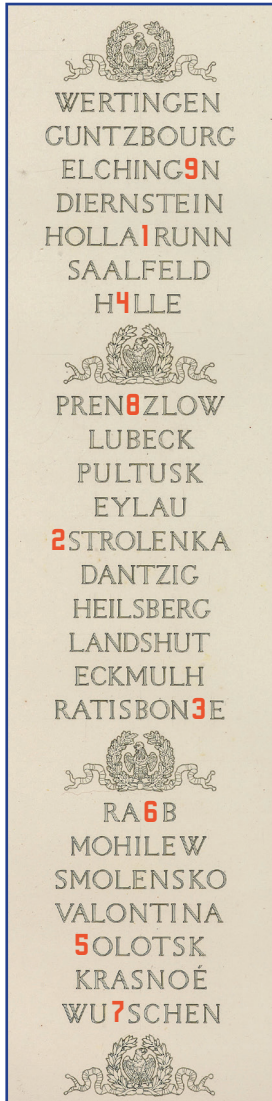
Essaye de faire deviner les personnages de la sculpture en les mimant.

2 ➤➤➤➤➤➤➤➤➤ **Fais le tour du monument pour regarder les autres façades.**

Tu trouveras sûrement d'autres allégories, il y en a beaucoup sur l'Arc.

3 >>>>> Viens maintenant te placer sous le monument.

Que de noms ! 697 noms d'officiers et 96 noms de batailles de la Révolution et de l'Empire de Napoléon sont gravés. Les noms soulignés sont ceux des soldats morts au combat.




Regarde les batailles inscrites sur la gauche, au-dessus du tombeau du Soldat inconnu.

Cherche les lettres manquantes pour former le nom de famille de Napoléon.



>>>>> Regarde au sol et rapproche-toi de la plaque ronde qui marque le centre du monument.

Un animal est dessiné dessus. C'est l'emblème de l'Empire, le reconnais-tu ? Dessine-le.




La plaque et les branches forment une **LÉGION D'HONNEUR**. C'est une médaille créée par Napoléon pour récompenser les personnes qui ont rendu des services au pays. Elle existe toujours et 2 800 personnes la reçoivent chaque année.

▶▶▶▶▶▶▶▶ Devant toi, se trouve le tombeau du Soldat inconnu.

Après la Première Guerre mondiale, un soldat a été enterré ici en hommage à tous ceux qui sont morts et surtout ceux qui n'ont pas été retrouvés. Sa tombe barre le passage, les armées n'ont plus le droit de défiler, comme pour marquer la fin des guerres. Il a été choisi au hasard et personne ne connaît son nom.

Pour le tirer au sort, on a demandé à un soldat, **AUGUSTE THIN**, de choisir parmi 8 cercueils. Comme il appartenait au 132e régiment, il a eu l'idée d'additionner ces 3 chiffres.



Coche celui qu'il a choisi.

Arrives-tu à lire l'inscription sur son tombeau ?

ICI _____ SOLDAT _____
_____ POUR LA _____ 1 ____ 4 - 19 ____ 8



La Flamme du souvenir ne s'éteint jamais. Tous les soirs à 18h30, une cérémonie est organisée par des anciens combattants.

C'est la cérémonie du
____ de la Flamme.

VI GE RA VA

4 ▶▶▶▶▶▶▶▶ Rejoins l'entrée du monument, tu vas maintenant monter 198 marches jusqu'à la première salle.

5 >>>>> Te voilà arrivé au-dessus de la grande voûte !



Le **GRAND PAVOIS** est le drapeau hissé pour les grandes **COMMÉMORATIONS** : le 14 juillet pour la Fête nationale, le 8 mai et le 11 novembre pour la fin des Guerres mondiales, le 9 mai pour la journée de l'Europe, etc.

En tout une dizaine de fois chaque année.


Besoin d'un indice ?

L'Arc de triomphe mesure
50 mètres de haut.

D'après toi, quelle taille fait-il ?

- 2 mètres de haut et 2 mètres de large.
- 21 mètres de haut et 15 mètres de large.
- 60 mètres de haut et 42 mètres de large.

Il y a 3 autres arcs de triomphe à Paris. Celui-ci est de loin le plus grand !



Connais-tu le nom
des trois autres ?

L'ARC DE TRIOMPHE

LA PORTE

LA PORTE

L'ARC DE ...

DE L'ÉTOILE

DU ...

6 >>>>> **Encore quelques marches à monter pour rejoindre le prochain étage.**



Toutes les **PALMES** en bronze que tu vois sur les murs ont été offertes en honneur au Soldat inconnu dans les années 1920. Elles viennent du monde entier. Regarde le **POILU** devant les palmes. C'est comme ça qu'on appelle les soldats de la Première Guerre mondiale.

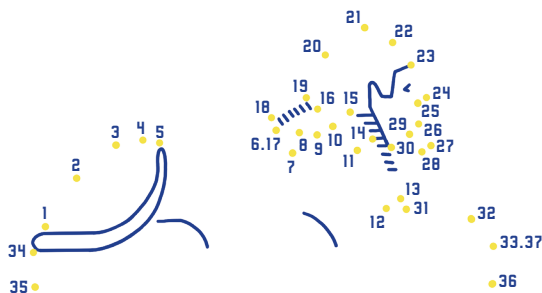
À TOI DE JOUER !

Regarde attentivement la partie centrale des palmes, derrière la statue du Poilu. 7 différences se sont glissées dans cette photo, entoure-les.

>>>>> **Rapproche-toi de la maquette.**

Elle te permet de mieux voir les sculptures du haut du monument. La frise représente le départ et le retour des armées. Rappelle-toi qu'un arc de triomphe est une porte ! Dans un sens les armées sortent de la ville pour partir en guerre, dans l'autre, elles reviennent victorieuses.

Relie les points pour découvrir cette statue rapportée d'une guerre de Napoléon. De quel pays vient-elle ?



Retrouve-la sur la frise. Les panneaux explicatifs peuvent t'aider à mieux voir.

L'Arc de triomphe est un lieu de célébrations, pas toujours militaires. Les Français s'y rassemblent pour fêter les grands événements, le nouvel an, les victoires sportives, les grands hommes, etc.

Ces grands événements ont été fêtés à l'Arc de triomphe. Relie chacun à son image.



A

MARIAGE DE NAPOLÉON ET MARIE-LOUISE

2 avril 1810

Un faux Arc de triomphe en bois a été construit car le vrai n'était pas terminé.




B

FUNÉRAILLES DE VICTOR HUGO

31 mai 1885

Plus d'un million de personnes sont venues voir son cercueil, sous l'Arc de triomphe voilé de noir, avant qu'il ne parte en cortège jusqu'au Panthéon.



C

DÉFILÉ DE LA VICTOIRE

14 juillet 1919

Après la Première Guerre mondiale, des milliers de soldats défilent sous l'Arc de triomphe. Tous les ans, un défilé militaire a lieu le 14 juillet.



D

LA FRANCE CHAMPIONNE DU MONDE DE FOOTBALL

15 juillet 2018

Des milliers de personnes ont fêté la victoire autour de l'Arc de triomphe et sur les Champs-Élysées.



E

BONNE ANNÉE !

1er janvier

Chaque année les parisiens fêtent le nouvel an devant l'Arc de triomphe.

À TOI DE JOUER !

Demande aux personnes qui t'accompagnent quels événements elles associent à l'Arc de triomphe.

7 >>>>> **Courage, plus que quelques marches pour accéder à la terrasse.**
Tu en auras monté 284 en tout !

Pendant longtemps, Paris n'était pas aussi étendu et ici c'était la campagne ! Vers 1660, Louis XIV aménage les Champs-Élysées en jardins et quand l'Arc de triomphe est construit, il est à la limite de la ville. Puis peu à peu, les bâtiments que l'on voit aujourd'hui ont été construits.

L'Arc de triomphe est au centre de la place de l'Étoile, qu'on appelle ainsi en raison des avenues qui partent tout autour.

Combien y en a-t-il ?

La plus célèbre est l'avenue des Champs-Élysées, à l'Est. Elle mesure 2 km et rejoint le jardin des Tuileries et le Louvre.

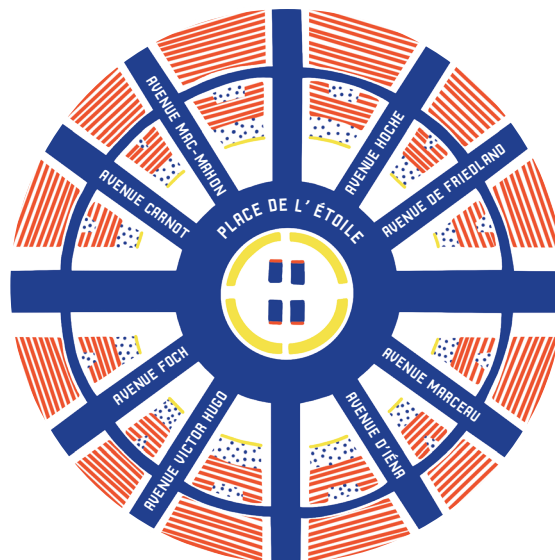
Les vois-tu au loin ?

En t'aidant des tables d'orientation, retrouve le nom des autres grandes avenues.

AVENUE DE _____

AVENUE DE LA _____

AVENUE DES
CHAMPS
ÉLYSÉES



AVENUE _____





Tu arrives à la fin de la visite, n'oublie pas de reporter toutes tes réponses !



Le général Jean-Baptiste _____ est né à Strasbourg en 1753.



Pendant la Révolution, il s'est battu dans l' _____ des



_____, notamment en Vendée, dans l'Ouest de la France.



Il a suivi le général _____ jusqu'en _____ où il



est mort en 1800, juste avant la bataille des _____.

Comme officier de l'armée napoléonienne, son nom est gravé




sous l'Arc de _____ . Sur le _____ Sud,



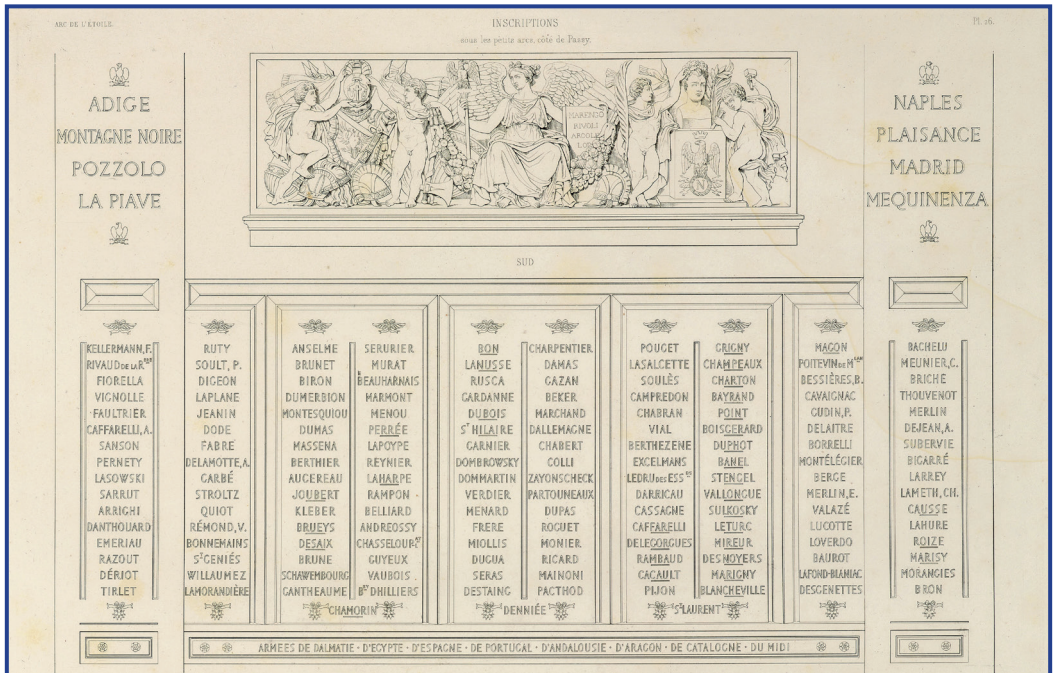
près de l'avenue qui porte son nom, c'est le 1^{er} _____ ème nom de la 3^{ème} colonne.

Il figure également sur la façade ouest (côté Grande Armée), sur le bas-relief de la prise d'Alexandrie où il s'est illustré.





En sortant du monument, regarde une dernière fois les piliers et retrouve ce célèbre général.



Au plaisir de te revoir à l'Arc de triomphe,

MERCI DE TA VISITE !

SOLUTIONS

PAGE 6 : 1-terrasse , 2-corniche, 3-voûte, 4-piédroit / 45 mètres de large

PAGE 7 : Pyramides, Marengo et Aus(terlitz). Renommées : de part et d'autre de la voûte principale

PAGE 8 : Bonaparte / un aigle

PAGE 9 : le 6e cercueil / Ici repose un soldat français mort pour la patrie. 1914-1918 / Ravivage

PAGE 10 : 21 x 15m / La porte Saint-Denis, la porte Saint-Martin, l'Arc de triomphe du Carrousel


PAGE 11 : un sphynx d'Égypte

PAGE 12 : 1810-B / 1885-E / 1919-D / 2018-A / 1er janvier-C

PAGE 13 : avenue de la Grande Armée, avenue de Wagram, avenue Kléber

PAGE 14 :

Le général Jean-Baptiste **KLÉBER** est né à Strasbourg en 1753. Pendant la Révolution, il s'est battu dans l'**ARMÉE** des **FRANÇAIS**, notamment en Vendée, dans l'Ouest de la France. Il a suivi le général **BONAPARTE** jusqu'en **ÉGYPTE** où il est mort en 1800, juste avant la bataille des **PYRAMIDES**. Comme officier de l'armée napoléonienne, son nom est gravé sous l'Arc de **TRIOMPHE**. Sur le **PIÉDROIT** Sud, près de l'avenue qui porte son nom, c'est le 11 ème nom de la 3ème colonne.



ARC DE TRIOM PHE

CENTRE DES MONUMENTS NATIONAUX

ARC DE TRIOMPHE
Place Charles de Gaulle
75008 PARIS



#ArcDeTriomphe #leCMN
www.paris-arc-de-triomphe.fr

Textes et conception des jeux
ARC DE TRIOMPHE Camille Sanchez

Conception graphique & illustrations
LAURETTE ARCHITECTE 2023

Photos

BENJAMIN GAVAUDDO Pages 7-8-12-15 / **CAROLINE ROSE** Pages 6-9-14

REPRODUCTION PATRICK CADET Page 12 / **CAMILLE SANCHEZ** Pages 10-11-12

© CENTRE DES MONUMENTS NATIONAUX